



दैनिक

अभ्यासमाला






विद्यार्थ्यांचे नाव-

शाळेचे नाव

इयत्ता १ ली विषय गणित
माहे सप्टेंबर, २०२०



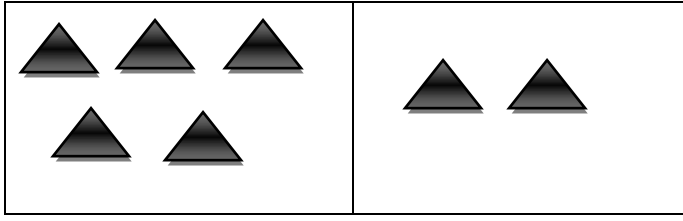
मोज व किती आहेत ते लिही.


१		
२		
३		
४		
५		


वाच व लिही .

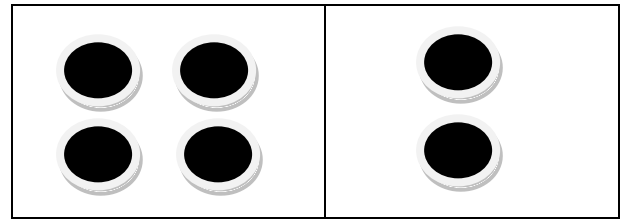
१					
२					
३					
४					
५					
६					
७					
८					
९					

जास्त आकृती असणारा रंगव .





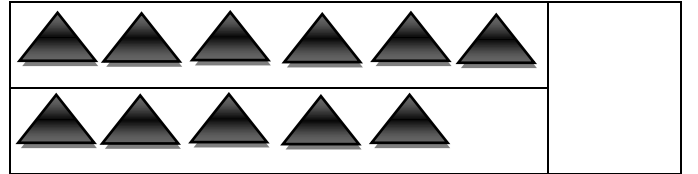
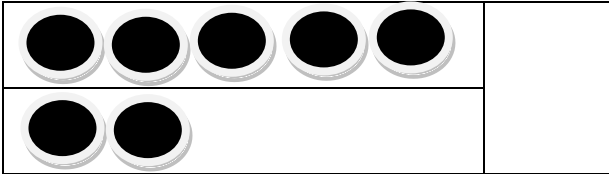





वाच व लिही .

१					
२					
३					
४					
५					

रेघेने एकास एक संगती लाव.किती वस्तू जास्त आहेत ते चौकोनात लिही.

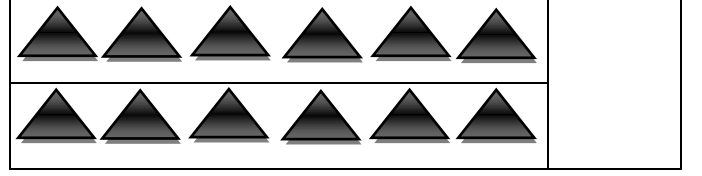




वाच व लिही .

१					
२					
३					
४					
५					
६					
७					
८					
९					

दि १०.९.२०२०

रेघेने एकास एक संगती लाव.किती वस्तू जास्त आहेत ते चौकोनात लिही.



दि ११.९.२०२०

वाच व लिही .

१					
२					
३					
४					
५					
६					
७					
८					
९					

संख्या चढत्या क्रमाने लिही.

१		३	४					९
---	--	---	---	--	--	--	--	---

१			४					९
---	--	--	---	--	--	--	--	---

१				५				९
---	--	--	--	---	--	--	--	---

१								९
---	--	--	--	--	--	--	--	---

संख्या चढत्या क्रमाने लिही.

४	५				९
---	---	--	--	--	---

३					८	
---	--	--	--	--	---	--

७		
---	--	--

५				९
---	--	--	--	---

१								९
---	--	--	--	--	--	--	--	---

संख्या चढत्या क्रमाने लिही.

१		३	४					९
---	--	---	---	--	--	--	--	---

१			४					९
---	--	--	---	--	--	--	--	---

१				५				९
---	--	--	--	---	--	--	--	---

१								९
---	--	--	--	--	--	--	--	---

वाच व लिही .

१					
२					
३					
४					
५					
६					
७					
८					
९					

संख्या चढत्या क्रमाने लिही.

४	५				९
---	---	--	--	--	---

३					८	
---	--	--	--	--	---	--

५		
---	--	--

५					९
---	--	--	--	--	---

१								९
---	--	--	--	--	--	--	--	---

वाच व लिही .

१					
२					
३					
४					
५					
६					
७					
८					
९					

संख्या उतरत्या क्रमाने लिही.

९	८	७	६	५	४	३	२	१
---	---	---	---	---	---	---	---	---

९		७		५		३		
---	--	---	--	---	--	---	--	--

९							२	
---	--	--	--	--	--	--	---	--

९		७						
---	--	---	--	--	--	--	--	--

वाच व लिही .

९					
८					
७					
६					
५					
४					
३					
२					
१					

संख्या उतरत्या क्रमाने लिही.

९	८	७	६	५	४	३	२	१
---	---	---	---	---	---	---	---	---

९				५				
---	--	--	--	---	--	--	--	--



९							२	
---	--	--	--	--	--	--	---	--



९								
---	--	--	--	--	--	--	--	--



वाच व लिही .

९					
८					
७					
६					
५					
४					
३					
२					
१					

बेरीज कर व लिही.

	+		=	४
३	+	१	=	४



	+		=	
३	+	३	=	



	+		=	
४	+		=	



वाच व लिही .

१					
२					
३					
४					
५					
६					
७					
८					
९					

बेरीज कर व लिही.

	+		=	
	+		=	

	+		=	
	+		=	

	+		=	
	+		=	

वाच व लिही .

१					
२					
३					
४					
५					
६					
७					
८					
९					