



COVID FIGHTER

दुर्गक अभ्यासमाला

विद्यार्थ्याचे नाव-.....

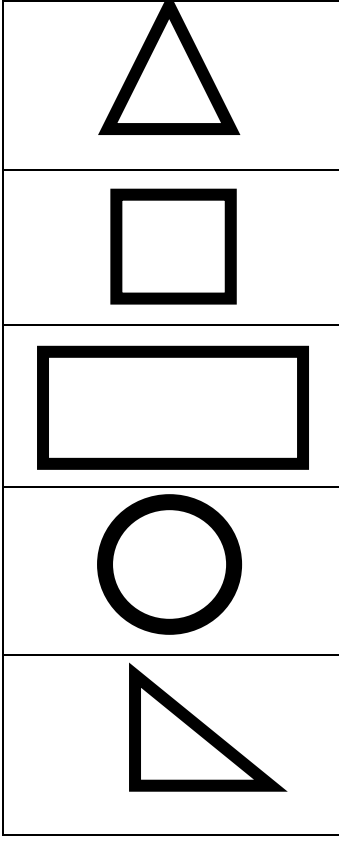
शाळेचे नाव -

.....

इयत्ता ४थी विषय गणित
माहे जुलै, २०२०



योग्य जोड्या जुळवा



वर्तुळ

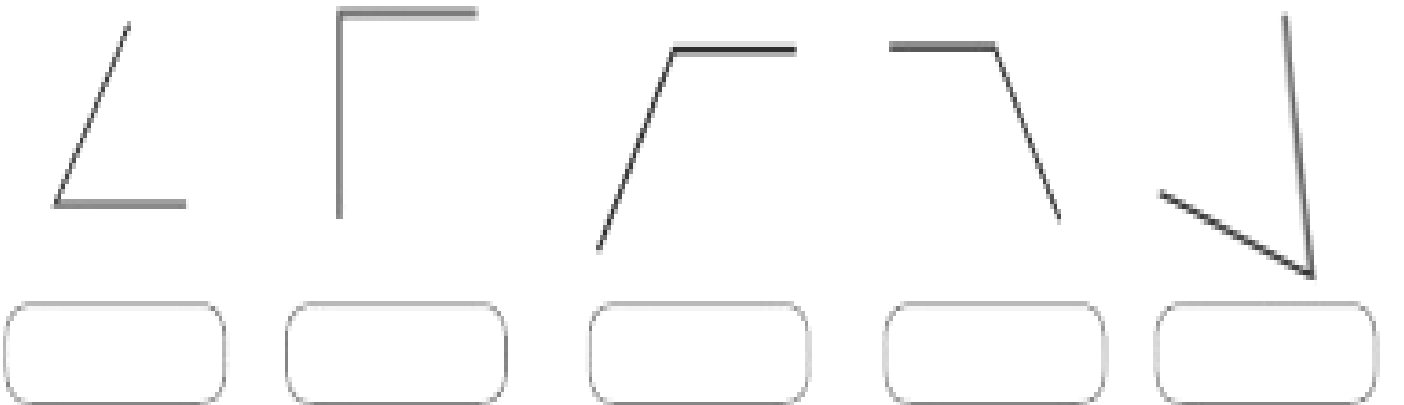
काटकोन त्रिकोण

त्रिकोण

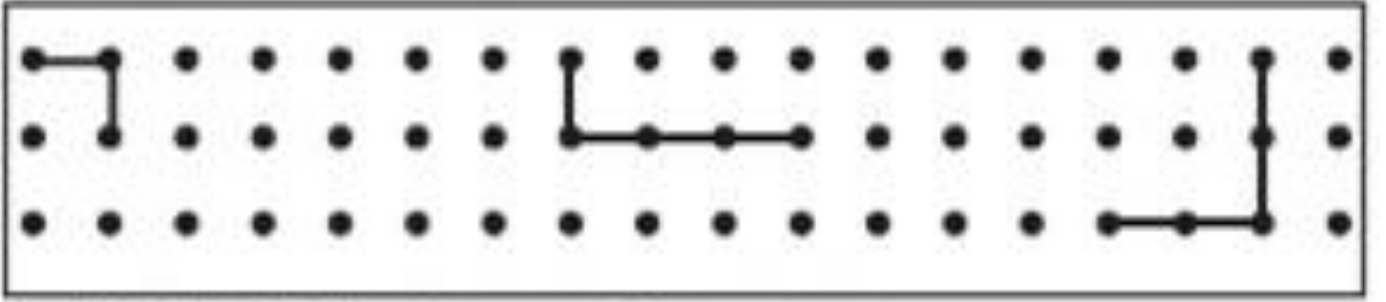
चौरस

आयत


- ◆ खालील आकृत्यांचे निरीक्षण करून आकृतीखालील चौकटीत काटकोन, लघुकोन किंवा विशालकोन असे लिहा.




खाली दिलेले ठिपके जोडून काटकोन तयार करा.



खाली दिलेले ठिपके जोडून लघुकोन तयार करा.




खाली दिलेले ठिपके जोडून विशालकोन तयार करा.



कोनाचे प्रकार लिहा .

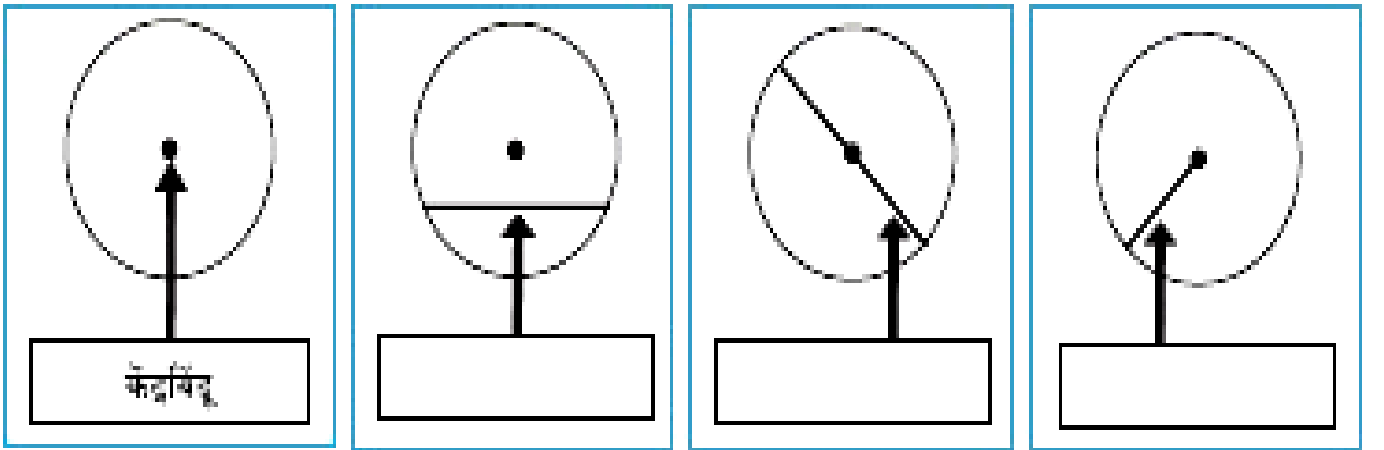


खालील वर्तुळात केंद्रबिंदू, त्रिज्या, जीवा व व्यास काढा व त्यांना नावे द्या.






खालील वर्तुळाच्या भागांची नावे लिहा.

खालील वर्तुळाच्या आकृत्या पाहून बाणाने दाखवलेल्या रेषा जीवा, व्यास, त्रिज्या यांपैकी काय आहेत, हे त्याखालील चौकटीत लिहा.



◆ खालील आकृत्यांचे निरीक्षण करून तक्ता पूर्ण करा.


आकृती			
आकृतीचे नाव			
कडांची संख्या	चार
कोपरे	चार

दि.१०.७.२०२०

खालील संख्या अक्षरात लिहा

१३५		८२५	
२१०		६६५	
२५४		९९०	
६२०		७३९	
५५५		८४९	
३११		९१२	
२०२		२०८	

खालील संख्याकार्डे वापरून तीन अंकी संख्या तयार करा.



खालील संख्या अक्षरात लिहा

४००		४२०	
७०३		७८०	
९०१		९९९	
४५९		५५५	
५६९		४४४	
६७९		२२२	

खालील संख्या अंकात लिहा

शंभर		नऊशे नव्याण्णव	
एकशे पंचवीस		आठशे पंधरा	
दोनशे दहा		सातशे तीस	
तीनशे पन्नास		सहाशे बारा	
चारशे पासष्ट		पाचशे त्रेचाळीस	
पाचशे		चारशे पस्तीस	
सहाशे एकोणतीस		तीनशे बावन	
सातशे सत्याहत्तर		दोनशे बत्तीस	
आठशे चौदा		एकशे एक्याण्णव	
नऊशे सदतीस		सव्वाशे	

खालील संख्या अक्षरात लिहा

१३८		८८५	
२६०		९६५	
३५४		९४०	
६९०		४३९	
५०५		२४९	
२११		९१६	
५०२		४०८	
९००		९२०	
७०७		७३०	
१०१		५५५	

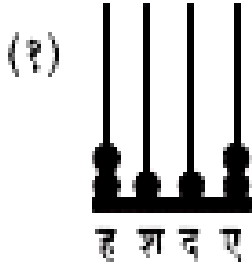
क्रमाने पुढच्या संख्या लिहा.

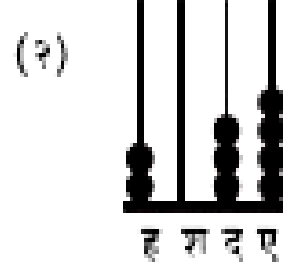
३९९			
२००			
५१७			
४९९			
८००			
७२४			
२३५			
८४१			

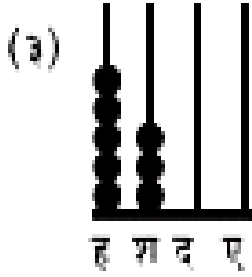
क्रमाने मागच्या संख्या लिहा.

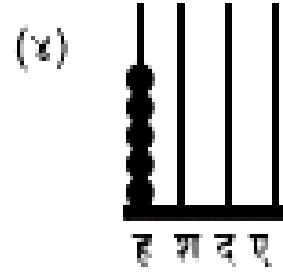
			६००
			३६९
			२९९
			९००
			३८९
			१९९
			६५२
			९८७


◆ प्रतीके पाहा. संख्या लिहा व वाचा.

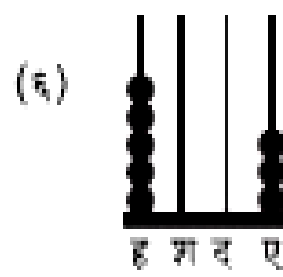












खालील संख्या अक्षरात लिहा .

१,००१	
१,१००	
१,०१०	
२,००२	
२,०२०	
२,२००	
४,००४	

दिलेल्या संख्या अंकांत लिहा.

संख्या (अक्षरांत)	ह	श	द	ए
(१) चार हजार पाच				
(२) पाच हजार सतरा				
(३) सात हजार तीनशे तेरा				
(४) आठ हजार				
(५) नऊ हजार नऊशे नव्याण्णव				

दिलेल्या संख्या अंकात लिहा

दोन हजार वीस	
पाच हजार आठशे सोळा	
सात हजार तीनशे नव्वद	
तीन हजार दोनशे दहा	
चार हजार चारशे चव्वेचाळीस	

खालील संख्या अक्षरात लिहा .

७,३८०	
९,२०८	
७,२८९	
९,१०२	
३,६५४	

खालील संख्या अक्षरात लिहा .

१,२३४	
२,३४५	
३,४५६	
५,६७८	
७,८९०	
९,८७०	
८,७६५	
६,५४३	
४,३२१	
९,०००	

अधोरेखित अंकांची स्थानिक किंमत लिहा

२,३ <u>५</u> ४		७२, <u>८</u> ९१	
७,३ <u>८</u> ९		९०, <u>२</u> ८०	
८,२ <u>९</u> ०		<u>७</u> २,९०१	
७, <u>८</u> २०		४६,२ <u>५</u> ७	
<u>२</u> ,०६१		९ <u>३</u> ,७०१	

खालील संख्या अक्षरात लिहा .

२१,२३४	एकवीस हजार दोनशे चौतीस
४२,३४५	
७३,४५६	
३५,६७८	
७०,८९०	
९१,८७०	
८०,७६५	
१६,५४३	
४०,३२१	
९७,०००	सत्याण्णव हजार

९,५,६,१,८, यापैकी प्रत्येक अंक एकदाच वापरून पाच अंकी सहा संख्या तयार करा .

७,४,२,०,३ यापैकी प्रत्येक अंक एकदाच वापरून पाच अंकी सहा संख्या तयार करा .

१,२,३,४,५ यापैकी प्रत्येक अंक एकदाच वापरून पाच अंकी सहा संख्या तयार करा .

दिलेले अंक वापरून मोठ्यात मोठी व लहानात लहान संख्या तयार करा

अंक	मोठ्यात मोठी	लहानात लहान
१, ५, ६, ४, ८,	८४, ६५१	१५, ६४८
३, ४, १, ७, ९		
९, ०, ६, ७, १,		
५, ३, ८, १, ०,		
२, १, ५, ८, ४,		

संख्या विस्तारित रूपात लिहा .

७, ५४५	$७००० + ५०० + ४० + ५$
४, ०५०	
७२९१८	
२८३०९	
२०३०८	$२०००० + ३०० + ८$

दिलेले अंक वापरून मोठ्यात मोठी व लहानात लहान संख्या तयार करा

अंक	मोठ्यात मोठी	लहानात लहान
२, ५, ६, ४, ८		
८, २, १, ७, ९		
३, १, ६, ७, ०,		
६, ९, ८, १, ०,		
३, ९, ५, ८, ४,		

विस्तारित रूपावरून संख्या लिहा

$५०००+३००+२०+८$	
$९०००+७००+५०+२$	
$२००००+४०००+७००+२०+५$	
$५००००+५०००+५००+५०+५$	
$३०००+५०+८$	
$९००००+७००+२$	
$२००००+३०००+४००+५०+६$	
$३००००+५०००+४००+९०+३$	

विषम संख्यांना गोल करा

२	६२	१२	२२	५१
३	६६	३२	२३	५५
६	३९	८१	२४	१७
८	६७	९३	२५	४४
९	९०	८२	२६	९७

खालील संख्या आंतरराष्ट्रीय संख्या चिन्हात लिहा.

१	1	२८३	
५		८६५	
९		९,०००	9,000
४३	43	२,९८१	