



COVID FIGHTER

दैनिक अभ्यासमाला

विद्यार्थ्याचे नाव-.....

शाळेचे नाव -







.....

इयत्ता ३री विषय गणित
माहे जुलै, २०२०



दि २.७.२०२०

खालील चित्रे पाहून त्यातील भौमितिक आकृत्या ओळखाय काढा. त्यांची नावे लिहा.

चित्रे					
आकृती					
आकृतीचे नाव	आयत				

दि ३.७.२०२०

योग्य जोड्या जुळवा

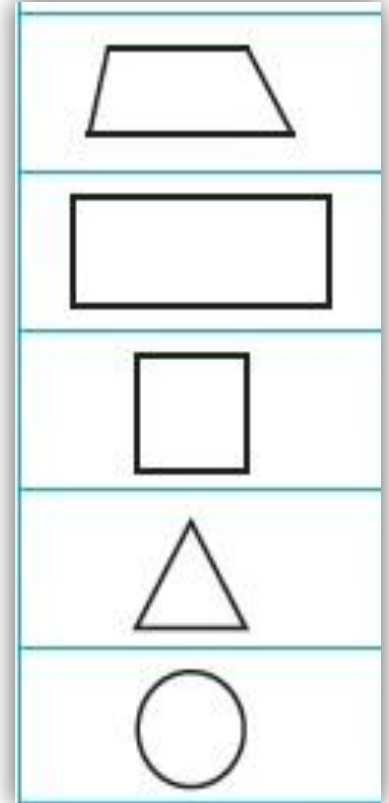
चौरस

त्रिकोण

चौकोन

वर्तुळ

आयत





टेबलाच्या पृष्ठभागाचे निरीक्षण करा.

◆ टेबलाच्या पृष्ठभागाला किती कडा आहेत ?

◆ टेबलाच्या पृष्ठभागाला किती कोपरे आहेत ?

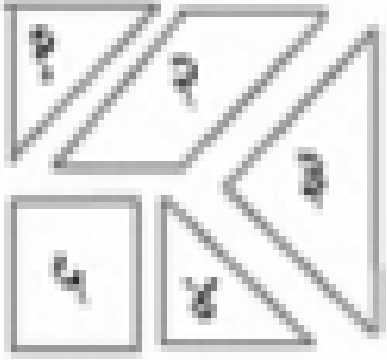
◆ टेबलाच्या पृष्ठभागाचा आकार कोणता ?

◆ खालील तक्ता पूर्ण करा.

आकृती	आकृतीचे नाव	कडांची संख्या	कोपऱ्यांची संख्या

अंकात व अक्षरात लिहा

१	एक	६	
२		७	
३		८	आठ
४		९	
५		१०	



टॅनग्रॅम पाहून प्रश्नांची उत्तरे लिहा .

१. आकृतीत एकूण त्रिकोण किती आहेत ?

२. आकृतीत एकूण चौकोन किती आहेत ?

३. आकृतीत एकूण चौरस किती आहेत ?

४. दोन त्रिकोण जोडून एक चौरस

तयार होईल का ?

५. दोन त्रिकोण जोडून एक मोठा त्रिकोण

तयार होईल का ?

- ◆ खालील सारणीत १ ते १० या संख्यांच्या चौकटी लाल रंगाने, ११ ते २० या संख्यांच्या चौकटी हिरव्या रंगाने, याप्रमाणे विविध रंगांचा वापर करून सर्व चौकटी रंगवा.

११	११	७८	४५	५९	८०	६७	९८	४६	४७
१८	८२	७९	८	४०	३९	९७	५	६८	२६
५१	४	५८	८८	१३	७५	१७	९५	५२	१६
८३	८१	७१	३४	८७	१	९६	३८	२५	२७
३२	७७	२	७६	१२	६३	५३	६०	९	३७
६५	१०	१००	१४	६४	२४	११	९४	९३	३६
३१	७२	४१	५५	२९	५४	२२	३५	३	४८
८४	३०	१५	६	८६	२३	६२	६१	७०	६९
५७	६६	५६	७३	३३	८९	७	४२	९२	४९
४४	८५	२८	७४	२०	५०	९०	९१	२१	४३

अंकात व अक्षरात लिहा

१	एक	१४	
२		१५	
३		१६	
४		१७	
५		१८	
६		१९	
७		२०	वीस

दि ११.७.२०२०

१	एक	९		१७	
२		१०		१८	
३		११		१९	
४		१२		२०	वीस
५		१३		२१	
६		१४		२२	
७		१५		२३	
८	आठ	१६		२४	
#	#	#	#	२५	

दि १३.७.२०२०

२६	सव्वीस	३४	चौतीस	४२	
३०					
३३		४१			
#	#	#	#	५०	पन्नास

दि १४.७.२०२०

५१	एकावन्न	५९		६७	
		६६			
#	#	#	#	७५	पंचाहत्तर

दि १५.७.२०२०

७६					
#	#	#	#	१००	शंभर

रिकाभ्या चौकटीत योग्य संख्या लिहा

एक दशक = एककएक शतक = एककएक शतक = दशकदोन दशक = एककदोन शतक = एककदोन शतक = दशक

१	एक	९		१७	
८					
#	#	#	#	२५	पंचवीस

दि १८.७.२०२०

१	एक	९		१७	
२		१०		१८	
३		११		१९	
४		१२		२०	वीस
५		१३		२१	
६		१४		२२	
७		१५		२३	
८	आठ	१६		२४	
#	#	#	#	२५	

दि २०.७.२०२०

२६	सव्वीस	३४	चौतीस	४२	
३०					
३३		४१			
#	#	#	#	५०	पन्नास

दि २१.७.२०२०

५१	एकावन्न	५९		६७	
		६६			
#	#	#	#	७५	पंचाहत्तर

दि २२.७.२०२०

७६					
#	#	#	#	१००	शंभर

दि २३.७.२०२०

१०१ ते २०० संख्या लिहा

१०१	१११								१९१
१०२									
		१२४							
			१३५						
					१५६				
						१६७			
							१७८		
								१८९	
११०				१५०					२००

दि २४.७.२०२०

२०१ ते ३०० संख्या लिहा

२०१									
									३००

दि २५.७.२०२०

३०१ ते ४०० संख्या लिहा

३०१									
									४००

दि २७.७.२०२०

४०१ ते ५०० संख्या लिहा

४०१									
									५००

९९	१००	१०१	१०२	१०३	१०४	१०५	१०६	१०७	१०८	१०९	११०
----	-----	-----	-----	-----	-----	-----	-----	-----	-----	-----	-----

२१५	२१६	२१७	२१८	२१९	२२०	२२१	२२२	२२३	२२४	२२५	२२६
-----	-----	-----	-----	-----	-----	-----	-----	-----	-----	-----	-----

३९९	४००	४०१	४०२	४०३	४०४	४०५	४०६	४०७	४०८	४०९	४१०
-----	-----	-----	-----	-----	-----	-----	-----	-----	-----	-----	-----

♦ वरील संख्यापट्ट्यांच्या मदतीने लगतची पुढची संख्या लिहा.

✦ १०५, ✦ २२०, ✦ ४०९, ✦ २१९,

♦ वरील संख्यापट्ट्यांच्या मदतीने लगतची मागची संख्या लिहा.

✦ , ४०० ✦ , १०७ ✦ , २१८ ✦ , ११०

♦ वरील संख्यापट्ट्यांच्या मदतीने लगतची मागची व लगतची पुढची संख्या लिहा.

✦ , २१७, ✦ , १००, ✦ , ४०९,

संख्या अक्षरात लिहा .

११०		१११	
२४०		२२२	
२२२		३३३	
१३५		५५०	
२१८		८७०	
२१०		९८०	
४२५		९६१	

◆ दिलेल्या संख्येच्या लगतची पुढची संख्या त्या संख्येपेक्षा कितीने मोठी असते ?

◆ दिलेल्या संख्येच्या लगतची मागची संख्या त्या संख्येपेक्षा कितीने लहान असते ?

◆ ४३५ मध्ये १ मिळवून येणारी संख्या कोणती ?

◆ ४३५ मधून १ कमी करून येणारी संख्या कोणती ?

◆ लगतची पुढची व लगतची मागची संख्या लिहा.

✦ ११८ , ११९ , १२० ✦ , २०० , ✦ , ३९९ ,
 ✦ , ५९९ , ✦ , ८०० , ✦ , ७०७ ,

◆ दिलेल्या संख्येच्या पुढील कोणत्याही तीन संख्या लिहा.

✦ ५५५ , ६०० , ६५० , ९७७ ✦ ३९९ , , ,

◆ दिलेल्या संख्येच्या मागील कोणत्याही तीन संख्या लिहा.

✦ ९९ , ३९२ , ४०७ , ५०० ✦ , , , ६०९

संख्या अक्षरात लिहा .

२४२		९००	
१५२		८००	
८४३		७००	
७५२		६००	
९४१		५००	
९५५		११९	
८०४		२२९	