

COVID FIGHTER

# दैनिक अभ्यासमाला

विद्यार्थ्याचे नाव-.....

शाळेचे नाव - .....

इयत्ता ३री विषय गणित  
माहे ऑगस्ट, २०२०



संख्यांचा लहान-मोठेपणा ठरवा.

|             |      |        |       |        |        |
|-------------|------|--------|-------|--------|--------|
| संख्या      | ८, २ | ७७, ५९ | ३९, ९ | १४, ३५ | ६७, ३२ |
| लहान संख्या |      |        |       |        |        |
| मोठी संख्या |      |        |       |        |        |

खालील चौकटीत  $>$ ,  $<$  यांपैकी योग्य चिन्ह लिहा.

|                                   |                                  |                                  |                                  |
|-----------------------------------|----------------------------------|----------------------------------|----------------------------------|
| १० <input type="checkbox"/> $>$ ९ | ९ <input type="checkbox"/> १०    | ५ <input type="checkbox"/> ३     | ३ <input type="checkbox"/> ५     |
| ५० <input type="checkbox"/> ४९    | ४९ <input type="checkbox"/> ५०   | २३ <input type="checkbox"/> २५   | ७३ <input type="checkbox"/> ७५   |
| ५०० <input type="checkbox"/> ४९९  | ४९९ <input type="checkbox"/> ५०० | ५०० <input type="checkbox"/> ३०० | ६०० <input type="checkbox"/> ४०० |

खालील चौकटीत  $<$ ,  $>$  व  $=$  यांपैकी योग्य चिन्ह लिहा.

|                              |                              |
|------------------------------|------------------------------|
| ५ <input type="checkbox"/> ९ | ९ <input type="checkbox"/> ९ |
| ८ <input type="checkbox"/> ९ | ८ <input type="checkbox"/> ९ |
| ६ <input type="checkbox"/> ३ | ४ <input type="checkbox"/> ३ |
| ९ <input type="checkbox"/> ० | २ <input type="checkbox"/> ४ |
| २ <input type="checkbox"/> २ | ७ <input type="checkbox"/> ९ |

|    |                      |    |    |                      |    |
|----|----------------------|----|----|----------------------|----|
| ७२ | <input type="text"/> | ९५ | २३ | <input type="text"/> | १२ |
| २४ | <input type="text"/> | ४१ | ५२ | <input type="text"/> | ५२ |
| ३२ | <input type="text"/> | २३ | ४० | <input type="text"/> | ४९ |
| ९० | <input type="text"/> | ९२ | ७६ | <input type="text"/> | ३७ |
| २२ | <input type="text"/> | २२ | २७ | <input type="text"/> | ५५ |

|     |                      |     |     |                      |     |
|-----|----------------------|-----|-----|----------------------|-----|
| १०० | <input type="text"/> | २०० | ४५० | <input type="text"/> | ५४० |
| ७१५ | <input type="text"/> | ११९ | ८६९ | <input type="text"/> | ८६९ |

खालील संख्यांचा चढता व उतरता क्रम लावा .

|            |    |    |    |    |
|------------|----|----|----|----|
| संख्या     | ७० | ८७ | ७९ | ८५ |
| चढता क्रम  |    |    |    |    |
| उतरता क्रम |    |    |    |    |

|            |    |    |    |    |
|------------|----|----|----|----|
| संख्या     | ५५ | ६३ | ४० | ८० |
| चढता क्रम  |    |    |    |    |
| उतरता क्रम |    |    |    |    |

|            |    |   |    |    |
|------------|----|---|----|----|
| संख्या     | ५९ | ९ | ६९ | ७० |
| चढता क्रम  |    |   |    |    |
| उतरता क्रम |    |   |    |    |

दि.८.८.२०२०

खालील संख्यांचा चढता व उतरता क्रम लावा .

|            |     |     |     |     |
|------------|-----|-----|-----|-----|
| संख्या     | ५०० | ४०० | १०० | ६०० |
| चढता क्रम  |     |     |     |     |
| उतरता क्रम |     |     |     |     |

|            |     |     |     |     |
|------------|-----|-----|-----|-----|
| संख्या     | २१७ | २११ | २१५ | २१८ |
| चढता क्रम  |     |     |     |     |
| उतरता क्रम |     |     |     |     |

|            |     |     |     |     |
|------------|-----|-----|-----|-----|
| संख्या     | ५१९ | ६१९ | ४१९ | ३१९ |
| चढता क्रम  |     |     |     |     |
| उतरता क्रम |     |     |     |     |

दि.१०.८.२०२०

खालील संख्यांचा चढता व उतरता क्रम लावा .

|            |     |    |    |   |
|------------|-----|----|----|---|
| संख्या     | ११७ | ६९ | ५० | ८ |
| चढता क्रम  |     |    |    |   |
| उतरता क्रम |     |    |    |   |

|            |     |    |     |     |
|------------|-----|----|-----|-----|
| संख्या     | ९१२ | २७ | ३५६ | ५४३ |
| चढता क्रम  |     |    |     |     |
| उतरता क्रम |     |    |     |     |

|            |    |    |    |    |
|------------|----|----|----|----|
| संख्या     | ८८ | ७८ | ७५ | ३५ |
| चढता क्रम  |    |    |    |    |
| उतरता क्रम |    |    |    |    |

दि.११.८.२०२०

विस्तारित रूपावरून संख्या लिहा.

|                |  |
|----------------|--|
| $७०० + ० + ५$  |  |
| $४०० + ६० + ७$ |  |
| $८०० + ० + ०$  |  |
| $२०० + १० + १$ |  |
| $१०० + ५० + ०$ |  |
| $४० + ४$       |  |
| $३०० + ० + ६$  |  |

दि.१२.८.२०२०

दिलेल्या अंकापासून तीन अंकी सर्वात मोठी व सर्वात लहान संख्या तयार करा.

| अंक     | सर्वात मोठी | सर्वात लहान |
|---------|-------------|-------------|
| ९, ४, ६ |             |             |
| ७, ०, ४ |             |             |
| ३, ९, ५ |             |             |
| ८, ५, ९ |             |             |
| ५, ०, २ |             |             |
| २, ४, ६ |             |             |
| ६, ५, ३ |             |             |




अधोरेखित अंकांची स्थानिक किंमत लिहा .

|                |               |
|----------------|---------------|
| <u>९</u> १९ =  | ३० <u>५</u> = |
| १ <u>३</u> ५ = | <u>४</u> ८० = |
| २ <u>०</u> =   | <u>३</u> २ =  |

चित्र रंगवा



चित्रे पाहून संख्या लिहा .

| चित्रे   | संख्या               |
|--|----------------------|
|   | <input type="text"/> |
|   | <input type="text"/> |
|  | <input type="text"/> |

पुढील बेरजा करा व निरीक्षण करा.

$$\begin{array}{r} 48 \\ + 20 \\ \hline \end{array}$$

७४

$$\begin{array}{r} 20 \\ + 48 \\ \hline \end{array}$$

७४

$$\begin{array}{r} 60 \\ + 6 \\ \hline \end{array}$$

□

$$\begin{array}{r} 6 \\ + 60 \\ \hline \end{array}$$

□

$$\begin{array}{r} 64 \\ + 93 \\ \hline \end{array}$$

□

$$\begin{array}{r} 93 \\ + 64 \\ \hline \end{array}$$

□

बेरीज करा.

| श   | द | ए |
|-----|---|---|
| ६   | ६ | ४ |
| + २ | २ | ० |
|     |   |   |

| श   | द | ए |
|-----|---|---|
| ४   | २ | १ |
| + ३ | ५ | १ |
|     |   |   |

| श   | द | ए |
|-----|---|---|
| ७   | १ | ३ |
| + २ | ० | ५ |
|     |   |   |

| श   | द | ए |
|-----|---|---|
| १   | २ | २ |
| + ३ | २ | ४ |
|     |   |   |

| श   | द | ए |
|-----|---|---|
| २   | ० | ७ |
| + १ | ० | २ |
|     |   |   |

| श   | द | ए |
|-----|---|---|
| २   | ७ | ० |
| + ३ | १ | २ |
|     |   |   |

| श   | द | ए |
|-----|---|---|
| ४   | ५ | ० |
| + २ | ३ | ० |
|     |   |   |

| श   | द | ए |
|-----|---|---|
| ५   | ४ | १ |
| + ३ | २ | ० |
|     |   |   |

| श   | द | ए |
|-----|---|---|
| ४   | ० | ० |
| + ३ | ० | ० |
|     |   |   |

दि. २०.८.२०२०

$$३४२ + १०३ + २३०$$

$$२२२ + ४०४ + १११$$

| श | द | ए |
|---|---|---|
|   |   |   |
|   |   |   |

| श | द | ए |
|---|---|---|
|   |   |   |
|   |   |   |



दि.२१.८.२०२०

उभी मांडणी करून वजाबाकी करा .

|         |         |         |
|---------|---------|---------|
| ८५९-३२५ | ९३०-२१० | ६५५-१०५ |
| ३७२-१२  | २७७-५३  | ४७४-७०  |

| श | द | ए |
|---|---|---|
|   |   |   |
|   |   |   |

| श | द | ए |
|---|---|---|
|   |   |   |
|   |   |   |

| श | द | ए |
|---|---|---|
|   |   |   |
|   |   |   |

| श | द | ए |
|---|---|---|
|   |   |   |
|   |   |   |

| श | द | ए |
|---|---|---|
|   |   |   |
|   |   |   |

| श | द | ए |
|---|---|---|
|   |   |   |
|   |   |   |

दि.२४.८.२०२०

|       |       |       |
|-------|-------|-------|
| ४२९-७ | २००-० | ३९५-२ |
|-------|-------|-------|

| श | द | ए |
|---|---|---|
|   |   |   |
|   |   |   |

| श | द | ए |
|---|---|---|
|   |   |   |
|   |   |   |

| श | द | ए |
|---|---|---|
|   |   |   |
|   |   |   |

दि.२५.८.२०२०

खालील संख्यांचा चढता व उतरता क्रम लावा .

|            |    |    |    |    |
|------------|----|----|----|----|
| संख्या     | ५५ | ४४ | ३३ | ६६ |
| चढता क्रम  |    |    |    |    |
| उतरता क्रम |    |    |    |    |

|            |    |    |    |    |
|------------|----|----|----|----|
| संख्या     | ५९ | ८९ | ७९ | ६९ |
| चढता क्रम  |    |    |    |    |
| उतरता क्रम |    |    |    |    |

|            |     |     |     |     |
|------------|-----|-----|-----|-----|
| संख्या     | ९२१ | २१९ | २९१ | ९१२ |
| चढता क्रम  |     |     |     |     |
| उतरता क्रम |     |     |     |     |

दि.२६.८.२०२०

दिलेल्या अंकापासून तीन अंकी सर्वात मोठी व सर्वात लहान संख्या तयार करा.

| अंक     | सर्वात मोठी | सर्वात लहान |
|---------|-------------|-------------|
| ३, ४, ३ |             |             |
| ९, ०, २ |             |             |
| १, ९, ७ |             |             |
| ७, ५, ० |             |             |

विस्तारित रूपावरून संख्या लिहा.

|                |  |
|----------------|--|
| $४०० + ० + ४$  |  |
| $३०० + ८० + ७$ |  |
| $८०० + ० + ०$  |  |

अधोरेखित अंकांची स्थानिक किंमत लिहा .

|                     |                     |
|---------------------|---------------------|
| $\underline{८}१९ =$ | $३०\underline{४} =$ |
| $\underline{८}३५ =$ | $\underline{२}०० =$ |
| $५\underline{०} =$  | $\underline{९}२ =$  |

उभी मांडणी करून बेरीज करा .

|             |            |             |
|-------------|------------|-------------|
| $७६२ + २३०$ | $९३० + १०$ | $६५५ + १२३$ |
|-------------|------------|-------------|

|   |   |   |
|---|---|---|
| श | द | ए |
|   |   |   |
|   |   |   |

|   |   |   |
|---|---|---|
| श | द | ए |
|   |   |   |
|   |   |   |

|   |   |   |
|---|---|---|
| श | द | ए |
|   |   |   |
|   |   |   |

खालील संख्यांचा चढता व उतरता क्रम लावा .

|            |     |     |     |     |
|------------|-----|-----|-----|-----|
| संख्या     | १२१ | २१९ | २९१ | ९१२ |
| चढता क्रम  |     |     |     |     |
| उतरता क्रम |     |     |     |     |

|            |     |     |     |     |
|------------|-----|-----|-----|-----|
| संख्या     | १२२ | १२७ | १२४ | १२६ |
| चढता क्रम  |     |     |     |     |
| उतरता क्रम |     |     |     |     |

|            |     |     |     |     |
|------------|-----|-----|-----|-----|
| संख्या     | ९०९ | ९९० | ९९९ | ९०० |
| चढता क्रम  |     |     |     |     |
| उतरता क्रम |     |     |     |     |

उभी मांडणी करून वजाबाकी करा .

|           |          |           |
|-----------|----------|-----------|
| ७६२ - २३० | ९३० - १० | ६५५ - १२३ |
|-----------|----------|-----------|

|   |   |   |
|---|---|---|
| श | द | ए |
|   |   |   |
|   |   |   |

|   |   |   |
|---|---|---|
| श | द | ए |
|   |   |   |
|   |   |   |

|   |   |   |
|---|---|---|
| श | द | ए |
|   |   |   |
|   |   |   |