



दि.१.१०.२०२०

पुढील संख्या अक्षरात लिहा

११	दहा एक	अकरा	१६	-----	-----
१२	दहा दोन	-----	१७	-----	-----
१३	-----	-----	१८	-----	-----
१४	-----	-----	१९	-----	-----
१५	-----	-----	२०	----	वीस

## पुढील संख्या अक्षरात लिहा

२१	वीस एक	एकवीस	२६		
२२	वीस दोन		२७		
२३			२८		
२४			२९		
२५			३०	---	तीस
३१	तीस एक	एकतीस	३६		
३२	तीस दोन		३७		
३३			३८		
३४			३९		
३५			४०	---	चाळीस

४१	चाळीस एक	एकेचाळीस	४६		
४२	चाळीस दोन		४७		
४३			४८		
४४			४९		
४५			५०	---	पन्नास

दि.६.१०.२०२०

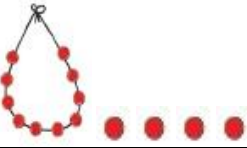







५१	पन्नास एक	एकावन्न	५६		
५२	पन्नास दोन		५७		
५३			५८		
५४			५९		
५५			६०	----	साठ
६१	साठ एक	एकसष्ठ	६६		
६२	साठ दोन		६७		
६३			६८		
६४			६९		
६५			७०	----	सत्तर

दि.७.१०.२०२०

७१	सत्तर एक	एकाहत्तर	७६		
७२	सत्तर दोन		७७		
७३			७८		
७४			७९		
७५			८०	----	ऐंशी

८१	ऐंशी एक	एक्याऐंशी	८६	-----	-----
८२	ऐंशी दोन	-----	८७	-----	-----
८३	-----	-----	८८	-----	-----
८४	-----	-----	८९	-----	-----
८५	-----	-----	९०	----	नव्वद
९१	नव्वद एक	एक्याण्णव	९६	-----	-----
९२	नव्वद दोन	-----	९७	-----	-----
९३	-----	-----	९८	-----	-----
९४	-----	-----	९९	-----	-----
९५	-----	-----	१००	----	शंभर

मोजा व लिहा

	१४		
			
			
			

अधोरेखीत अंकाची स्थानिक किंमत लिही.

१६ =	
४२ =	
५३ =	
८० =	
९१ =	

९० =	
८८ =	
७२ =	
६९ =	
५५ =	

बेरीज करा.

२ + ३ =	
२ + ५ =	
४ + ३ =	
५ + ४ =	
१ + ३ =	
४ + ४ =	
३ + ६ =	
५ + २ =	
२ + ३ =	
१ + ४ =	

४ + २ =	
५ + १ =	
२ + ९ =	
७ + १ =	
१ + ६ =	
५ + ३ =	
३ + ३ =	
७ + २ =	
६ + १ =	
६ + २ =	



दि. १५.१०.२०२०

बेरीज करा.

दशक	एकक
३	५
+	
२	३

दशक	एकक
२	४
+	
२	२

दशक	एकक
३	७
+	
३	३

दशक	एकक
५	५
+	
२	१

दशक	एकक
१	५
+	
२	२

दशक	एकक
२	७
+	
४	३

दशक	एकक
५	५
+	
४	३

दशक	एकक
१	३
+	
६	३

दि. १६.१०.२०२०

दशक	एकक
१	२
+	
२	३

दशक	एकक
१	५
+	
१	२

दशक	एकक
२	३
+	
३	३

दशक	एकक
२	५
+	
२	१

दशक	एकक
३	१
+	
३	२

दशक	एकक
२	१
+	
२	३

दशक	एकक
५	०
+	
४	०

दशक	एकक
०	३
+	
१	०

दादाकडे १५ रुपये होते.  
मावशीने त्याला अजून २० रुपये दिले.  
आता दादाकडे किती रुपये झाले ?

दशक	एकक
+	

कपाटात २४ पुस्तके होती .  
त्यात अजून १२ पुस्तके ठेवली .तर  
कपाटात एकूण किती पुस्तके झाली ?

दशक	एकक
+	

घरात १८ डबे होते .  
आईने बाजारातून ११ डबे आणले .  
आता एकूण किती डबे झाले ?

दशक	एकक
+	

साजीदकडे २४ अंडी आहेत .  
राणीकडे ३२ अंडी आहेत . तर दोघाकडे  
मिळून एकूण किती अंडी झाली ?

दशक	एकक
+	

दशक	एकक
५	१
+	
३	६

दशक	एकक
९	१
+	
०	३

दशक	एकक
३	०
+	
४	०

दशक	एकक
०	२
+	
१	०



दि. २१.१०.२०२०

वजाबाकी करा.

५ - २ =		७ - २ =	
७ - ५ =		३ - २ =	
९ - ४ =		५ - ५ =	
५ - ९ =		९ - ७ =	
४ - ४ =		३ - २ =	
२ - ९ =		८ - २ =	
७ - ३ =		४ - २ =	
८ - ५ =		३ - १ =	

दि. २२.१०.२०२०

वजाबाकी करा.

५ - २ =		७ - २ =	
७ - ५ =		३ - २ =	
९ - ४ =		५ - ५ =	
५ - ९ =		९ - ७ =	
४ - ४ =		३ - २ =	
२ - ९ =		८ - २ =	
७ - ३ =		४ - २ =	
८ - ५ =		३ - १ =	

वजाबाकी करा.

१५ - २ =		१७ - २ =	
३७ - ५ =		१३ - २ =	
१९ - ४ =		२५ - ५ =	
२५ - १ =		५९ - २ =	
३५ - ४ =		१८ - ५ =	
२ - ० =		८ - ० =	
७ - ० =		४ - ० =	
८ - ८ =		३ - ३ =	

सोडवा

$$२ + \boxed{\phantom{00}} = ५ \text{ म्हणून } \boxed{\phantom{00}} - ३ = २ \text{ आणि } ५ - २ = \boxed{\phantom{00}}$$

$$१ + \boxed{\phantom{00}} = ६ \text{ म्हणून } \boxed{\phantom{00}} - ५ = १ \text{ आणि } ६ - १ = \boxed{\phantom{00}}$$

$$४ + \boxed{\phantom{00}} = ५ \text{ म्हणून } \boxed{\phantom{00}} - ४ = १ \text{ आणि } ५ - १ = \boxed{\phantom{00}}$$

$$७ + \boxed{\phantom{00}} = ९ \text{ म्हणून } \boxed{\phantom{00}} - ७ = २ \text{ आणि } ९ - २ = \boxed{\phantom{00}}$$